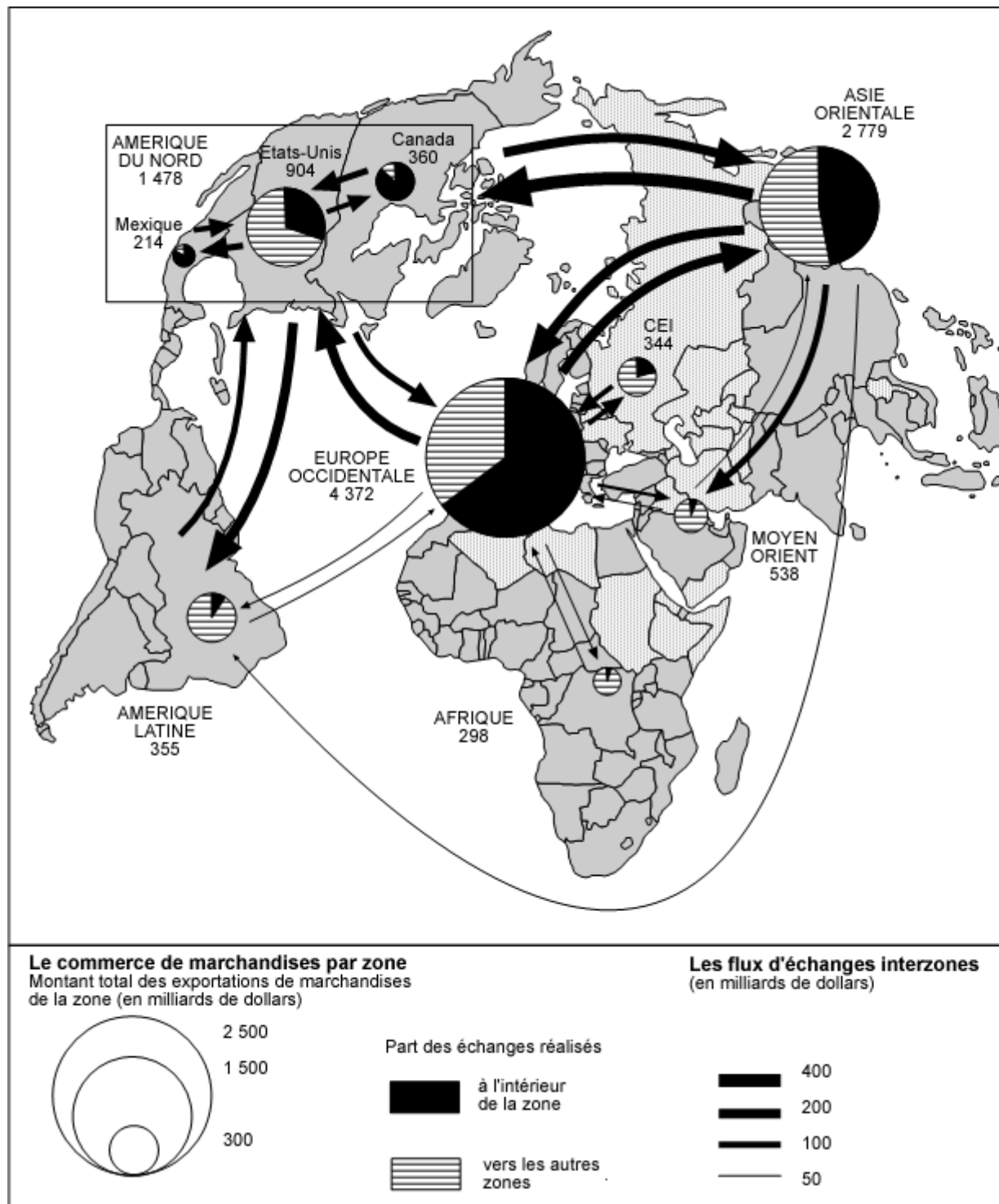


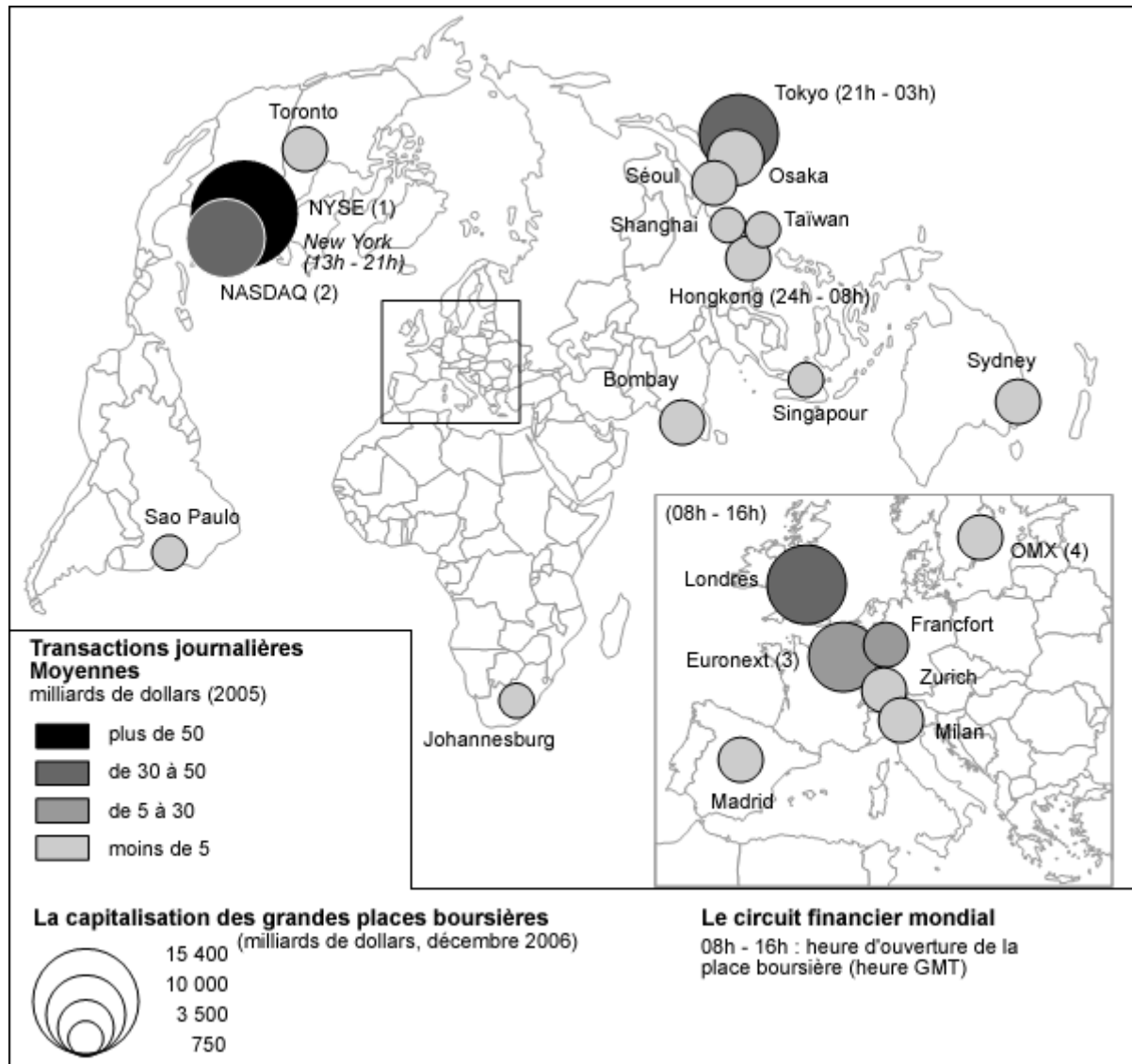
# Dossier documentaire : quels sont les espaces moteurs de la mondialisation ?

• Document 1 : **Le commerce mondial (2005).**



Les statistiques de l'OMC utilisées intègrent le Mexique dans la zone Amérique du Nord, la Turquie dans la zone Europe et L'Océanie dans la zone Asie

• Document 2 : **Les principales places boursières dans le monde.**



[www.world-exchanges.org](http://www.world-exchanges.org)

1. NYSE : New York Stock Exchange
2. NASDAQ : Marché boursier des nouvelles technologies
3. Euronext : Bourse européenne née de la fusion des Bourse de Paris, Amsterdam, Bruxelles et Lisbonne
4. OMX : Bourse européenne née de la fusion des Bourses de Stockholm, Copenhague, Helsinki, Vilnius, Riga et Tallin

• Document 3 : **New York.**

Principale métropole américaine par le nombre de ses habitants (8,1 millions), New York est le premier centre financier, culturel, artistique et de la communication au monde. Siège de nombreuses multinationales, mais aussi des Nations unies, le rayonnement de la ville est à la fois économique et

politique. L'essentiel de l'activité économique locale peut se définir comme des services, au sens large, aux entreprises (banque, finance, publicité, marketing, communication, édition...). Le secteur financier a un poids particulier à New York. La ville abrite les principaux marchés financiers et boursiers des États-Unis : le New York Stock Exchange (NYSE), l'American Stock Exchange et le NASDAQ. [...] La plupart des grands groupes français établis aux États-Unis ont leur siège à New York. [...] La position géographique de la ville et la qualité de ses infrastructures de communication offrent un accès privilégié à un foyer de consommation très important. La ville dispose à la fois d'un des plus importants ports du monde et de trois aéroports parmi les plus fréquentés du pays.

www.missioneco.fr, « Mission économique aux États-Unis », juin 2005

- Document 4 : **Publicité pour Osaka destinée aux entreprises françaises.**

### **Ouvrir un bureau à Osaka est le plus sûr moyen de réussir en Asie .**

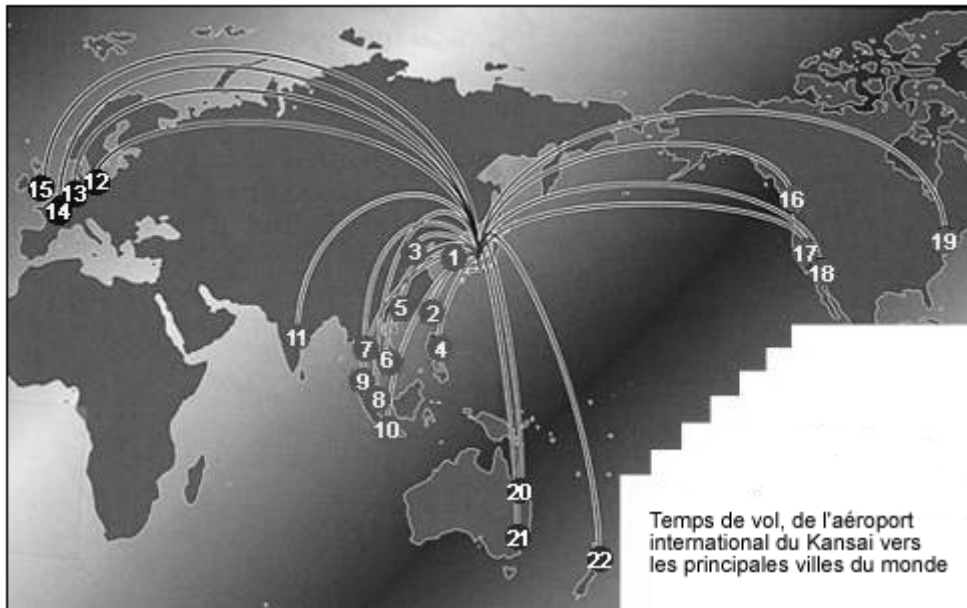
---

Osaka, **un accès stratégique au Japon et à l'Asie.**  
Osaka, une situation idéale et **un marché considérable pour vos produits.**  
Osaka, **des coûts plus avantageux** que ceux de Tokyo.  
Osaka, **le berceau de l'innovation** au Japon.  
Osaka vous offre un accès facile à **des personnels hautement qualifiés.**  
Osaka met à votre disposition **un réseau d'assistance au développement économique expérimenté.**  
Osaka, une ville où il fait **bon vivre.**

---

#### **► Un accès stratégique au Japon et à l'Asie**

Située au cœur du Japon, Osaka dispose d'excellentes liaisons avec toutes les autres grandes villes du Japon et un accès rapide à toutes les grandes villes de la zone Asie-Pacifique. Si vous avez décidé de vous implanter en Asie, Osaka est le bon choix. Notre ville a toujours eu d'excellentes relations avec le reste de l'Asie.



	City	Time		City	Time		
Asia	1	Seoul	1:30	Europe	12	Frankfurt	12:00
	2	Taipei	2:40		13	Amsterdam	12:05
	3	Beijing	3:10		14	Paris	12:25
	4	Manila	3:35		15	London	12:35
	5	Hong Kong	4:20	North America	16	Vancouver	9:05
	6	Ho Chi Minh	5:15		17	San Francisco	9:30
	7	Bangkok	5:25		18	Los Angeles	10:15
	8	Singapore	6:10		19	New York	16:18
	9	Kuala Lumpur	6:30	Oceania	20	Brisbane	8:55
	10	Jakarta	6:55		21	Sydney	9:35
	11	Delhi	10:15		22	Auckland	11:30

[www.osaka.fr](http://www.osaka.fr), bureau de représentation de la ville d'Osaka à Paris, 2006

• Document 5 : **Le port de Singapour.**



La Mondialisation en débat, *La Documentation Photographique*, n°8037, 2004.  
(photo AFP)

### **PREMIERE PARTIE**

Analysez l'ensemble documentaire en répondant aux questions suivantes :

1. Nommez les trois centres d'impulsion majeurs de l'économie mondiale et dégagez leurs principales caractéristiques (documents 1 et 2).
2. D'après les documents 1, 2 et 4, quelle est l'importance du pôle européen ?
3. Précisez les fonctions des grandes métropoles (documents 2, 3, 4 et 5). Quelles fonctions font de New York une "ville monde" ?
4. Identifiez les relations que les métropoles entretiennent entre elles (documents 2, 3, 4 et 5).
5. Comment se manifeste, dans le paysage, la puissance économique de Singapour (document 5) ?

### **DEUXIEME PARTIE**

A l'aide des réponses aux questions, des informations contenues dans les documents et de vos connaissances personnelles, rédigez une réponse organisée au sujet : "Quels sont les espaces moteurs de la mondialisation