

Vecteurs. Géométrie ANALYTIQUE

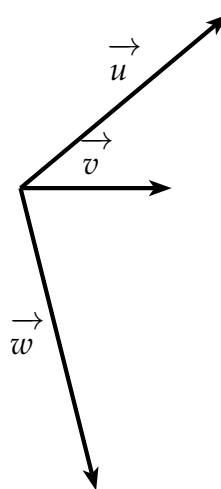
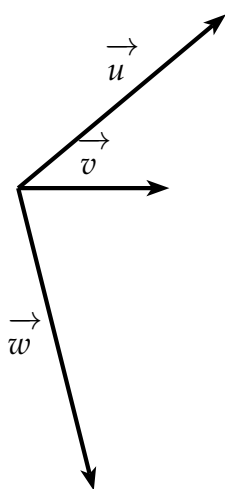
Addition de deux vecteurs

EXERCICE 1

On donne trois vecteurs \vec{u} , \vec{v} et \vec{w} . Sur les deux figures suivantes tracer la somme $\vec{u} + \vec{v} + \vec{w}$ de deux manières :

• $(\vec{u} + \vec{v}) + \vec{w}$

• $\vec{u} + (\vec{v} + \vec{w})$



EXERCICE 2

1) Simplifier les écritures suivantes en utilisant la relation de Chasles.

a) $\vec{u} = \overrightarrow{AB} + \overrightarrow{BC} + \overrightarrow{CA}$

c) $\vec{w} = \overrightarrow{MA} - \overrightarrow{MB} - \overrightarrow{AB}$

b) $\vec{v} = \overrightarrow{AB} - \overrightarrow{AC} + \overrightarrow{BC} - \overrightarrow{BA}$

2) Démontrer que pour tous points A, B et C : $\overrightarrow{OA} - \overrightarrow{OB} + \overrightarrow{AC} = \overrightarrow{BC}$

3) ABCD est un parallélogramme et M un point quelconque. Démontrer que :

$$\overrightarrow{MA} - \overrightarrow{MB} + \overrightarrow{MC} - \overrightarrow{MD} = \vec{0}$$

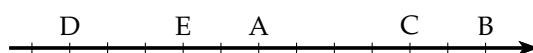
EXERCICE 3

ABC est un triangle. Réduire l'écriture du vecteur $\vec{u} = \overrightarrow{AC} + \overrightarrow{BA} - \overrightarrow{BC}$

Multiplication par un scalaire

EXERCICE 4

Les points A, B, C, D et E sont définis sur la droite graduée ci-dessous. Dans chaque cas, trouver le nombre réel k tel que $\vec{v} = k\vec{u}$



- 1) $\vec{v} = \overrightarrow{AB}$ et $\vec{u} = \overrightarrow{AE}$ 3) $\vec{v} = \overrightarrow{EC}$ et $\vec{u} = \overrightarrow{AB}$
 2) $\vec{v} = \overrightarrow{AD}$ et $\vec{u} = \overrightarrow{AE}$ 4) $\vec{v} = \overrightarrow{CD}$ et $\vec{u} = \overrightarrow{AB}$

EXERCICE 5

ABC est un triangle.

- 1) Placer les points D et E tels que : $\overrightarrow{CD} = 2\overrightarrow{AB}$ et $\overrightarrow{CE} = -\frac{1}{2}\overrightarrow{AB}$
 2) Trouver le nombre k tel que : $\overrightarrow{DE} = k\overrightarrow{AB}$

EXERCICE 6

ABC est un triangle.

- 1) Construire le point D tel que : $\overrightarrow{AD} = \overrightarrow{AB} + \overrightarrow{AC}$
 Prouver que [AD] et [BC] ont même milieu.
 2) Construire le point E tel que : $\overrightarrow{AE} = \overrightarrow{BC}$
 Prouver que C est le milieu de [ED].
 3) Les droites (AD) et (BE) se coupent en I. Que représente I pour le triangle ABC?
 Prouver que : $\overrightarrow{AI} = \frac{1}{3}\overrightarrow{AD}$ et $\overrightarrow{BI} = \frac{1}{3}\overrightarrow{BE}$.

Placement de points**EXERCICE 7**

A et B sont deux points tels que $AB = 6$ cm. Placer les points M et N définis par les relations suivantes :

$$2\overrightarrow{AM} + \overrightarrow{BM} = \vec{0} \quad \text{et} \quad 2\overrightarrow{NA} - 5\overrightarrow{NB} = \vec{0}$$

EXERCICE 8

A et B sont deux points distincts donnés. Placer les points M, N, P et Q tels que :

- a) $\overrightarrow{AM} = \frac{5}{2}\overrightarrow{AB}$ b) $\overrightarrow{NA} = 3\overrightarrow{AB}$ c) $\overrightarrow{BP} = -\frac{1}{4}\overrightarrow{AB}$

EXERCICE 9

[AB] est un segment de longueur 8 cm.

Placer le point M tel que : $\overrightarrow{MA} + 3\overrightarrow{MB} = \vec{0}$

EXERCICE 10

(AB) est une droite. Prendre $AB = 2$ cm. Les points M et N sont tels que :

$$3\overrightarrow{AM} - 2\overrightarrow{BM} = \vec{0} \quad \text{et} \quad -2\overrightarrow{NA} + 3\overrightarrow{NB} = \vec{0}$$

- 1) Exprimer \overrightarrow{AM} en fonction de \overrightarrow{AB} . Placer M.
- 2) Exprimer \overrightarrow{AN} en fonction de \overrightarrow{AB} . Placer N.
- 3) I est le milieu de [AB].
Exprimer \overrightarrow{IM} et \overrightarrow{IN} en fonction de \overrightarrow{AB} .
Déduire que I est aussi le milieu de [MN].

Colinéarité

EXERCICE 11

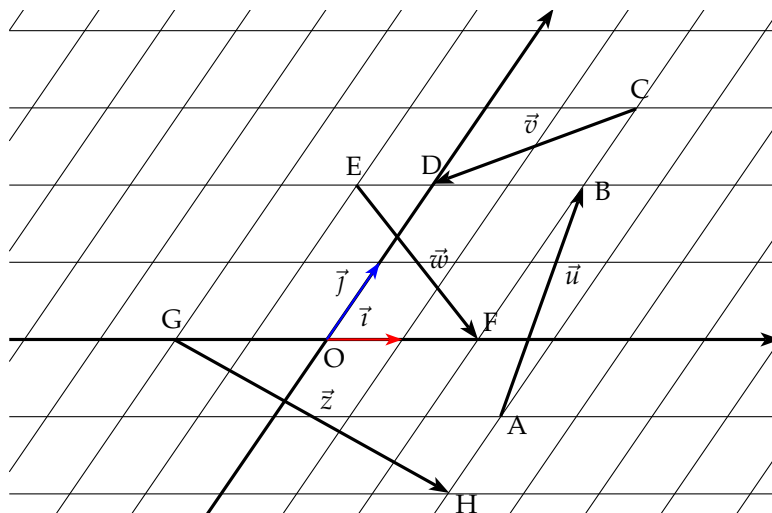
ABC est un triangle, E un point tel que : $\overrightarrow{AE} = \frac{1}{3} \overrightarrow{BC}$, I un point tel que $\overrightarrow{CI} = \frac{2}{3} \overrightarrow{CB}$ et F un point tel que : $\overrightarrow{AF} = \frac{1}{3} \overrightarrow{AC}$.

- 1) Faire une figure. On prendra $AB = 5$ cm, $BC = 6$ cm et $AC = 7,5$ cm.
- 2) Montrer que : $\overrightarrow{IE} = \overrightarrow{BA}$ et $\overrightarrow{IF} = \frac{2}{3} \overrightarrow{BA}$.
- 3) En déduire que les points I, E et F sont alignés.

Repère quelconque

EXERCICE 12

- a) Dans le repère (O, \vec{i}, \vec{j}) , déterminer les coordonnées des points A, B, C, D, E, F, G, H
- b) Dans le repère (O, \vec{i}, \vec{j}) , déterminer les coordonnées des vecteurs $\vec{u}, \vec{v}, \vec{w}, \vec{z}$.



EXERCICE 13

ABC est un triangle, I est le milieu de [BC] et J le milieu de [AI]. On choisit le repère $(A; \overrightarrow{AB}; \overrightarrow{AC})$.

- 1) Calculer les coordonnées de I et J.
- 2) Calculer les coordonnées du vecteur \vec{u} tel que : $\vec{u} = 2\overrightarrow{JA} + \overrightarrow{JB} + 2\overrightarrow{JC}$

EXERCICE 14

ABCD est un rectangle.

- a) Faire une figure et placer les points I, J, K et L tels que :

$$\overrightarrow{AI} = \frac{1}{5}\overrightarrow{AB}, \quad \overrightarrow{BJ} = \frac{1}{3}\overrightarrow{BC}, \quad \overrightarrow{CK} = \frac{1}{5}\overrightarrow{CD}, \quad \overrightarrow{DL} = \frac{1}{3}\overrightarrow{DA}$$

- b) Dans le repère $(A, \overrightarrow{AD}, \overrightarrow{AB})$, exprimer les coordonnées des vecteurs \overrightarrow{IJ} et \overrightarrow{LK} .
 c) En déduire la nature du quadrilatère IJKL.
 d) Démontrer que le centre du rectangle est aussi le milieu du segment [IK].

EXERCICE 15**Repère orthonormal**

Les points A, B et C sont tels que : $A(-2; -3)$, $B(5; 0)$ et $C(0; 7)$. G est le centre de gravité du triangle ABC.

- 1) a) Calculer les coordonnées du milieu I de [BC].
 b) Quel est le nombre k tel que $\overrightarrow{AG} = k\overrightarrow{AI}$?
 c) Calculer les coordonnées de \overrightarrow{AI} . En déduire celles de \overrightarrow{AG} puis celles de G.
 2) Prouver que $\overrightarrow{GA} + \overrightarrow{GB} + \overrightarrow{GC} = \vec{0}$

Colinéarité et déterminant**EXERCICE 16**

Dans chaque cas, dire si les vecteurs sont colinéaires :

a) $\vec{u}(2; -3)$ $\vec{v}\left(-1; -\frac{1}{3}\right)$ b) $\vec{u}\left(\frac{1}{2}; \frac{1}{3}\right)$ $\vec{v}\left(\frac{6}{5}; \frac{4}{5}\right)$

EXERCICE 17

Dans chaque cas, déterminer le réel m pour que les vecteurs \vec{u} et \vec{v} soient colinéaires

a) $\vec{u}(2; 6)$ $\vec{v}(m; 3)$ c) $\vec{u}(27; 2m)$ $\vec{v}(2m; 3)$
 b) $\vec{u}(-m; 0)$ $\vec{v}(1; -3)$

EXERCICE 18

- 1) On donne les points suivants : $A(2; 3)$, $B(5; 7)$ et $C(-6; -8)$.
 Les points A, B, C sont-ils alignés ?
 2) On donne les points suivants : $A(-2; 2)$, $B(1; 5)$, $C(-1; -2)$ et $D(7; 6)$.
 Les droites (AB) et (CD) sont-elles parallèles ?

EXERCICE 19

Dans les cas suivants, les points M, N et P sont-ils alignés ?

- 1) $M(4; -1)$, $N(7; -3)$, $P(-5; 5)$ 3) $M\left(2, -\frac{1}{3}\right)$, $N(3; -1)$, $P(0; 1)$
 2) $M(-2; 3)$, $N(-3; 7)$, $P(-5; 14)$

Géométrie analytique

EXERCICE 20

Dans un repère orthonormal, (O, \vec{i}, \vec{j}) on considère les points : $A(-4; 2)$, $B(-2; -4)$, $C(5, -3)$ et $D(4; 6)$. On appelle I, J, K, L les milieux respectifs des segments $[AB]$, $[BC]$, $[CD]$ et $[DA]$.

- 1) Placer les points A, B, C, D.
- 2) Calculer les coordonnées des points I, J, K, et L. Placer les points I, J, K et L.
- 3) Calculer les coordonnées des vecteurs \overrightarrow{IJ} et \overrightarrow{LK} . Que peut-on dire du quadrilatère IJKL ?
- 4) Calculer les longueurs IJ et IL et JL. Le quadrilatère IJKL est-il un rectangle ? Pourquoi ?

EXERCICE 21

Le repère (O, \vec{i}, \vec{j}) est orthonormal. On donne les points suivants :

$$A(-4; -1), \quad B(4; -2), \quad C(8; 5), \quad D(0; 6)$$

- 1) a) Démontrer que $[AC]$ et $[BD]$ ont même milieu.
 b) Calculer les distances AB et BC
- 2) En déduire la nature du quadrilatère ABCD

EXERCICE 22

Soit un repère (O, \vec{i}, \vec{j}) orthonormé.

Le but de cet exercice est de trouver les coordonnées du point d'intersection M des droites (AB) et (CD) .

- 1) Placer les points $A\left(-1; \frac{3}{2}\right)$, $B\left(2; \frac{5}{2}\right)$, $C\left(0; \frac{5}{2}\right)$ et $D\left(\frac{5}{2}; \frac{1}{2}\right)$
- 2) a) Calculer les coordonnées de \overrightarrow{AB} et \overrightarrow{CD}
 b) Prouver que les droites (AB) et (CD) sont sécantes.
- 3) On appelle k le réel tel que : $\overrightarrow{AM} = k\overrightarrow{AB}$.
 a) Exprimer les coordonnées de M en fonction de k .
 b) Calculer mes coordonnées de \overrightarrow{CM} en fonction de k .
 c) En utilisant la condition de colinéarité entre les vecteurs \overrightarrow{CM} et \overrightarrow{CD} , calculer k .
 d) En déduire les coordonnées du point M.

EXERCICE 23

Le plan est muni d'un repère orthonormé (O, \vec{i}, \vec{j}) .

On désigne par \mathcal{C} le cercle de centre $I(2; -1)$ et de rayon 5.

On donne les points $A(5; 3)$, $B(-3; -2)$, $C\left(4; \frac{7}{2}\right)$ et $D\left(3; -1 + 2\sqrt{6}\right)$.

- 1) Calculer les longueurs IA , IB , IC , ID .
- 2) Quels sont les points qui appartiennent au cercle \mathcal{C} ?

EXERCICE 24

Dans un repère, on donne les points : $M(0; -3)$, $N(2; 3)$, $P(-9; 0)$ et $Q(-1; -1)$

- a) Calculer les coordonnées des points A et B tels que :

$$\overrightarrow{NA} = \frac{1}{2}\overrightarrow{MN} \quad \text{et} \quad \overrightarrow{MB} = 3\overrightarrow{MQ}$$

- b) Calculer les coordonnées des vecteurs \overrightarrow{PA} et \overrightarrow{PB}
- c) Démontrer que les points P, A et B sont alignés.

EXERCICE 25

Dans un repère, on donne les points : $A(1; -1)$, $B(-1; -2)$ et $C(-2; 2)$

- a) Déterminer les coordonnées du point G vérifiant : $\overrightarrow{GA} + 2\overrightarrow{GB} + \overrightarrow{GC} = \vec{0}$
- b) Déterminer les coordonnées du points D vérifiant : $\overrightarrow{BD} = \overrightarrow{BA} + \overrightarrow{BC}$
- c) Faire une figure. Que peut-on conjecturer pour les points B, G et D ?
Démontrer cette conjecture.

EXERCICE 26

Dans un repère orthonormé, on donne les points : $A(-1; 2)$, $B(7; -8)$ et $E(7; 2)$

- a) Démontrer que le point E appartient au cercle \mathcal{C} de diamètre $[AB]$.
- b) Déterminer les coordonnées du point F, symétrique de E par rapport au centre I du cercle \mathcal{C} .
- c) Quelle est la nature que quadrilatère AEBF