

Fonctions trigonométriques

Table des matières

1	Angles orientés	2
1.1	Le radian	2
1.2	Angle défini sur l'ensemble des réels	2
1.3	Angles remarquables sur le cercle	3
2	Trigonométrie	3
2.1	Dans le triangle rectangle	3
2.2	Définition	4
2.3	Tableau des angles remarquables	4
2.4	Relations trigonométriques	5
2.4.1	Relations de symétrie	5
2.4.2	Relations de déphasage	5
2.5	Équations trigonométriques	6
2.6	Lignes trigonométrie dans le cercle	7
3	Fonctions sinus et cosinus	7
3.1	Définition	7
3.2	Propriétés	7
3.3	Variations	8
3.4	Courbes	8

1 Angles orientés

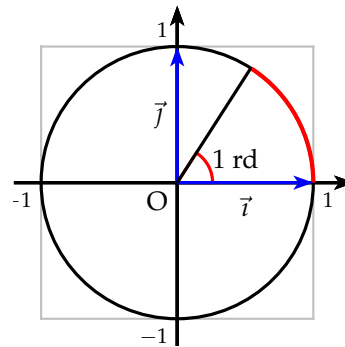
1.1 Le radian

Définition 1 : Le radian est une unité de mesure d'un angle comme le degré. Il est défini comme la longueur de l'arc entre 2 points du cercle unité. Le demi cercle unité a un longueur de π et correspond à un angle de π radian. On a alors la conversion : $180^\circ = \pi$ rd

La mesure en degré de 1 radian vaut :

$$1 \text{ rd} = \frac{180}{\pi} \approx 57^\circ$$

Degré	30°	45°	60°	90°
Radian	$\frac{\pi}{6}$	$\frac{\pi}{4}$	$\frac{\pi}{3}$	$\frac{\pi}{2}$



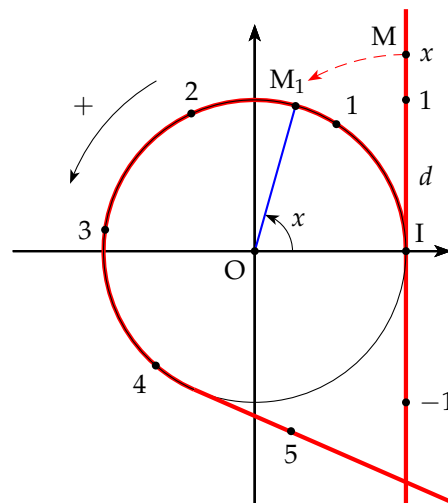
Le cercle unité est aussi appelé cercle trigonométrique.

Remarque : Le radian est une grande unité qui n'est pas intuitive contrairement au degré.

1.2 Angle défini sur l'ensemble des réels

Définition 2 : On appelle d la droite tangente au cercle unité en I. À un point $M(1; x)$ de d , on associe un point M_1 par enroulement de d sur le cercle unité. Au réel x , on associe alors l'angle, en radian, formé par les points O, I et M_1 compté positivement ou négativement suivant le sens de la rotation. Le sens positif ou trigonométrique est le sens inverse des aiguilles d'une montre.

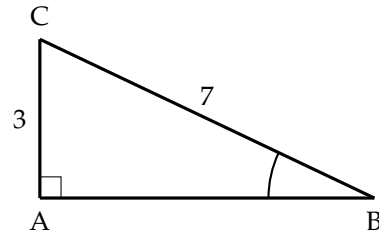
- Si M_1 est un point du cercle d'angle x , il est alors associé à tous $x' \in \mathbb{R}$ tels que : $x' = x + k \times 2\pi$, $k \in \mathbb{Z}$.
- Réciproquement si $x, x' \in \mathbb{R}$ tels que $x' = x + k \times 2\pi$, $k \in \mathbb{Z}$ alors, x et x' sont associés au même point M_1 du cercle trigonométrique.
- On écrit alors : $x' = x [2\pi]$



Soit ABC rectangle en A tel que :
 $BC = 7$ et $AC = 3$. Calculer l'angle \widehat{ABC} .

$$\sin \widehat{ABC} = \frac{AC}{BC} = \frac{3}{7} \Rightarrow$$

$$\widehat{ABC} = \arcsin \frac{3}{7} \approx 25,38^\circ$$



2.2 Définition

Définition 4 : M est le point du cercle trigonométrique associé au réel x

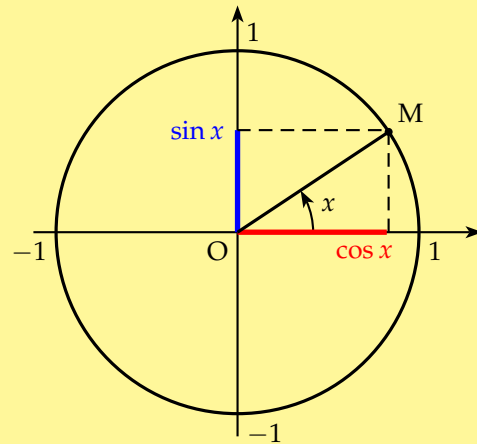
$\cos x =$ abscisse du point M

$\sin x =$ ordonnée du point M

$$\tan x = \frac{\sin x}{\cos x}$$

On a alors :

- $-1 \leq \sin x \leq 1$ et $-1 \leq \cos x \leq 1$
- $\sin^2 x + \cos^2 x = 1$



2.3 Tableau des angles remarquables

x	0	$\frac{\pi}{6}$	$\frac{\pi}{4}$	$\frac{\pi}{3}$	$\frac{\pi}{2}$
$\sin x$	0	$\frac{1}{2}$	$\frac{\sqrt{2}}{2}$	$\frac{\sqrt{3}}{2}$	1
$\cos x$	1	$\frac{\sqrt{3}}{2}$	$\frac{\sqrt{2}}{2}$	$\frac{1}{2}$	0
$\tan x$	0	$\frac{\sqrt{3}}{3}$	1	$\sqrt{3}$	∞

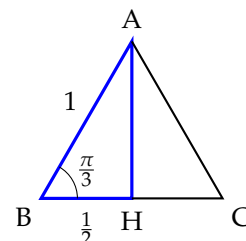
Démonstration : On calcule $\sin \frac{\pi}{3}$ et $\cos \frac{\pi}{3}$ à l'aide d'un triangle équilatéral.

Soient le triangle équilatéral ABC de côté 1 et H le pied de la hauteur issue de A.

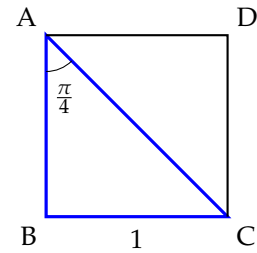
D'après les propriétés de triangle équilatéral $H = m[BC]$

$$AH^2 = AB^2 - BH^2 = 1 - \frac{1}{4} = \frac{3}{4} \Rightarrow AH = \frac{\sqrt{3}}{2}$$

$$\sin \frac{\pi}{3} = \frac{AH}{AB} = \frac{\sqrt{3}}{2} \text{ et } \cos \frac{\pi}{3} = \frac{BH}{AB} = \frac{1}{2}$$



On calcule $\sin \frac{\pi}{4}$ à l'aide du carré ABCD de côté 1.



Dans le triangle isocèle rectangle ABC.

$$AC^2 = AB^2 + BC^2 = 1 + 1 = 2 \Rightarrow BC = \sqrt{2}$$

$$\sin \frac{\pi}{4} = \frac{BC}{AC} = \frac{1}{\sqrt{2}} = \frac{\sqrt{2}}{2}$$

À l'aide de l'angle complémentaire, on déduit les autres valeurs des lignes trigonométriques. Par exemple $\sin \frac{\pi}{6} = \cos \left(\frac{\pi}{2} - \frac{\pi}{6} \right) = \cos \frac{\pi}{3} = \frac{1}{2}$.

2.4 Relations trigonométriques

2.4.1 Relations de symétrie

Avec l'angle opposé :

$$\sin(-x) = -\sin x$$

$$\cos(-x) = +\cos x$$

Avec l'angle supplémentaire :

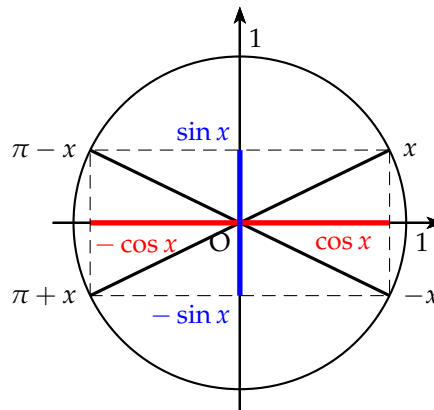
$$\sin(\pi - x) = +\sin x$$

$$\cos(\pi - x) = -\cos x$$

Avec l'angle diamétralement opposé :

$$\sin(\pi + x) = -\sin x$$

$$\cos(\pi + x) = -\cos x$$



Remarque : La fonction sinus est impaire et la fonction cosinus est paire.

2.4.2 Relations de déphasage

Avec le complémentaire

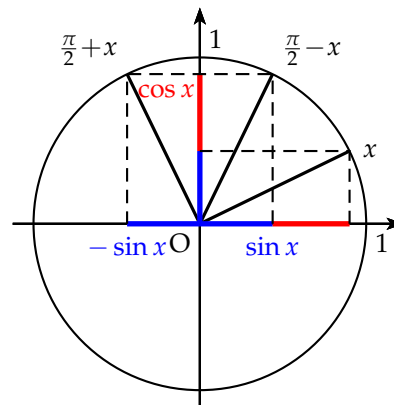
$$\sin \left(\frac{\pi}{2} - x \right) = \cos x$$

$$\cos \left(\frac{\pi}{2} - x \right) = \sin x$$

Avec un déphasage d'un quart de tour

$$\sin \left(\frac{\pi}{2} + x \right) = \cos x$$

$$\cos \left(\frac{\pi}{2} + x \right) = -\sin x$$



Exemple : Simplifier : $A = \cos \left(x + \frac{\pi}{2} \right) - 3 \cos \left(-\frac{\pi}{2} - x \right) - 4 \sin(\pi - x)$

À l'aide des formules de symétrie et de déphasage, on a :

$$A = -\sin x - 3 \cos \left(\frac{\pi}{2} + x \right) - 4 \sin x = -\sin x + 3 \sin x - 4 \sin x = -2 \sin x$$

2.5 Équations trigonométriques

Résolution des équations dans \mathbb{R} : $\cos x = a$ et $\sin x = a$ avec $|a| \leq 1$

1) $\cos x = a \Leftrightarrow \cos x = \cos \alpha$ avec

On détermine $\alpha \in [0; \pi]$ tel que $\alpha = \arccos a$ à l'aide du cercle unité.

D'après les règles de symétrie : $x = \alpha$ ou $x = -\alpha$

On trouve toutes les solutions réelles en ajoutant les multiples de 2π

$$\cos x = a \Leftrightarrow x = \alpha + 2k\pi \text{ ou } x = -\alpha + 2k\pi, \quad k \in \mathbb{Z}$$

Remarque : l'expression $x = \alpha + 2k\pi$ peut s'écrire $x = \alpha [2\pi]$

Exemple : Résoudre dans \mathbb{R} : $\sqrt{2} \cos x - 1 = 0$

$$\sqrt{2} \cos x - 1 = 0 \Leftrightarrow \cos x = \frac{1}{\sqrt{2}} = \frac{\sqrt{2}}{2} \Leftrightarrow \cos x = \cos \frac{\pi}{4}$$

$$\text{Les solutions dans } \mathbb{R} \text{ sont : } \begin{cases} x = \frac{\pi}{4} + 2k\pi & \text{ou} \\ x = -\frac{\pi}{4} + 2k\pi \end{cases}, \quad k \in \mathbb{Z}$$

2) $\sin x = a \Leftrightarrow \sin x = \sin \alpha$

On détermine $\alpha \in \left[-\frac{\pi}{2}; \frac{\pi}{2}\right]$ tel que $\alpha = \arcsin a$ à l'aide du cercle unité.

D'après les règles de symétrie : $x = \alpha$ ou $x = \pi - \alpha$

On trouve toutes les solutions réelles en ajoutant les multiples de 2π

$$\sin x = a \Leftrightarrow x = \alpha + 2k\pi \text{ ou } x = \pi - \alpha + 2k\pi, \quad k \in \mathbb{Z}$$

Exemple : Résoudre dans \mathbb{R} : $2 \sin x - \sqrt{3} = 0$

$$2 \sin x - \sqrt{3} = 0 \Leftrightarrow \sin x = \frac{\sqrt{3}}{2} \Leftrightarrow \sin x = \sin \frac{\pi}{3}$$

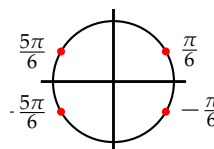
$$\text{Les solutions dans } \mathbb{R} \text{ sont : } \begin{cases} x = \frac{\pi}{3} + 2k\pi & \text{ou} \\ x = \pi - \frac{\pi}{3} + 2k\pi = \frac{2\pi}{3} + 2k\pi \end{cases}, \quad k \in \mathbb{Z}$$

Autre exemple

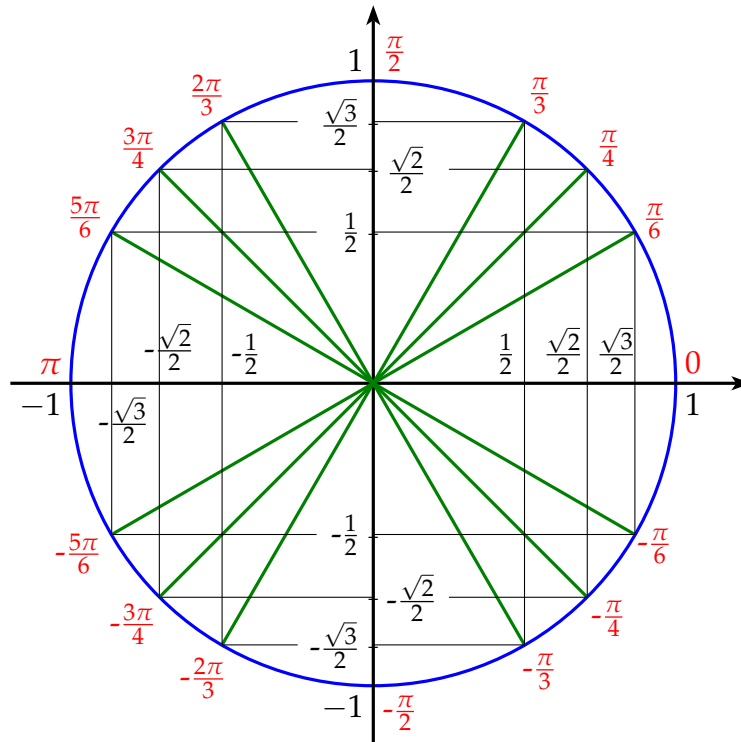
Résoudre dans \mathbb{R} l'équation : $\cos 2x = \frac{1}{2}$

$$\cos 2x = \frac{1}{2} \Leftrightarrow \cos 2x = \cos \frac{\pi}{3}$$

$$\begin{cases} 2x = \frac{\pi}{3} + 2k\pi \\ 2x = -\frac{\pi}{3} + 2k\pi \end{cases} \Leftrightarrow \begin{cases} x = \frac{\pi}{6} + k\pi \\ x = -\frac{\pi}{6} + k\pi \end{cases}, \quad k \in \mathbb{Z}$$



2.6 Lignes trigonométrie dans le cercle



3 Fonctions sinus et cosinus

3.1 Définition

Définition 5 : Les fonctions sinus et cosinus, notées \sin et \cos , sont les fonctions définies sur \mathbb{R} par :

$$\begin{aligned} \sin : \mathbb{R} &\longrightarrow [-1 ; 1] \\ x &\longmapsto \sin x \end{aligned}$$

$$\begin{aligned} \cos : \mathbb{R} &\longrightarrow [-1 ; 1] \\ x &\longmapsto \cos x \end{aligned}$$

Remarque : Comme à tout réel x on peut associer un angle, les fonctions \sin et \cos sont tout naturellement définies sur \mathbb{R} .

Notation : on devrait en toute rigueur écrire $\sin(x)$ et non $\sin x$ mais l'usage préfère la notation $\sin x$ sans parenthèse, plus simple.

3.2 Propriétés

Propriété 1 : Les fonctions \sin et \cos sont 2π -périodique :

$$\forall x \in \mathbb{R}, \quad \sin(x + 2\pi) = \sin x \quad \text{et} \quad \cos(x + 2\pi) = \cos x$$

Les fonctions \sin et \cos sont respectivement impaire et paire :

$$\forall x \in \mathbb{R}, \quad \sin(-x) = -\sin x \quad \text{et} \quad \cos(-x) = \cos x$$

Leurs courbes représentatives sont donc symétriques respectivement par rapport à l'origine et à l'axe des ordonnées.

Remarque :

- Comme les fonctions sin et cos sont 2π -périodique :
Les courbes \mathcal{C}_{\sin} et \mathcal{C}_{\cos} sur \mathbb{R} se déduisent des courbes \mathcal{C}_{\sin} et \mathcal{C}_{\cos} sur $[-\pi ; \pi]$ par des translations de vecteurs $\vec{u} = (2k\pi)\vec{i}$, $k \in \mathbb{Z}$.
- De la parité des fonctions sin et cos, on restreint leur étude à l'intervalle $[0 ; \pi]$.

3.3 Variations

Théorème 1 : Les fonctions sin et cos sont dérivable sur \mathbb{R} :

$$\sin' = \cos \quad \text{et} \quad \cos' = -\sin$$

D'après le cercle trigonométrique :

- $\forall x \in [0 ; \pi], \sin x \geq 0 \Leftrightarrow -\sin x \leq 0 \Leftrightarrow \cos' x \leq 0$
La fonction cos est décroissante.

- $\begin{cases} \forall x \in [0 ; \frac{\pi}{2}], \cos x \geq 0 \Leftrightarrow \sin' x \geq 0 \\ \forall x \in [\frac{\pi}{2} ; \pi], \cos x \leq 0 \Leftrightarrow \sin' x \leq 0 \end{cases}$

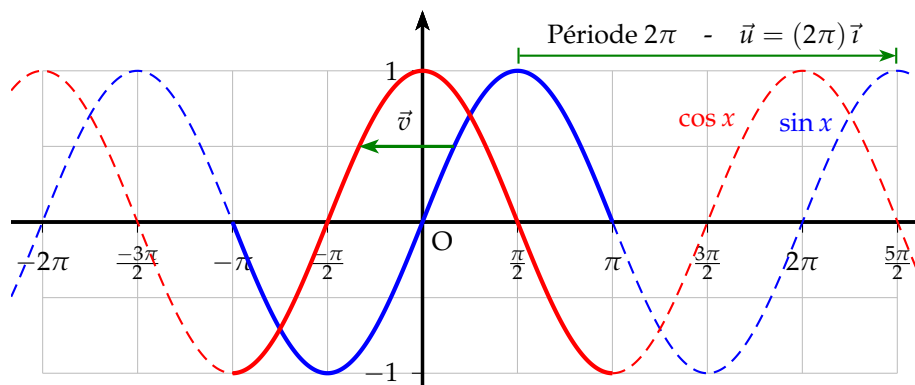
La fonction sin est croissante sur $[0 ; \frac{\pi}{2}]$ et décroissante sur $[\frac{\pi}{2} ; \pi]$.

x	0	$\frac{\pi}{2}$	π
$\sin' x$		+	0
$\sin x$	0	1	0

x	0	$\frac{\pi}{2}$	π
$\cos' x$	0	-	
$\cos x$	1	0	-1

3.4 Courbes

- Pour tracer les courbes \mathcal{C}_{\sin} et \mathcal{C}_{\cos} sur $[-\pi ; \pi]$, on utilise les propriétés de symétrie des fonctions sin et cos dues à leur parité.
- On déduit \mathcal{C}_{\sin} et \mathcal{C}_{\cos} sur \mathbb{R} par translations de vecteurs $\vec{u} = (2k\pi)\vec{i}$, $k \in \mathbb{Z}$.
- Les courbes \mathcal{C}_{\sin} et \mathcal{C}_{\cos} sont des sinusoides.



Remarque : De $\cos x = \sin(x + \frac{\pi}{2})$, on déduit la sinusoides de cos par une translation de vecteur $\vec{v} = -\frac{\pi}{2}\vec{i}$ de la sinusoides de sin.